

## Au supermarché



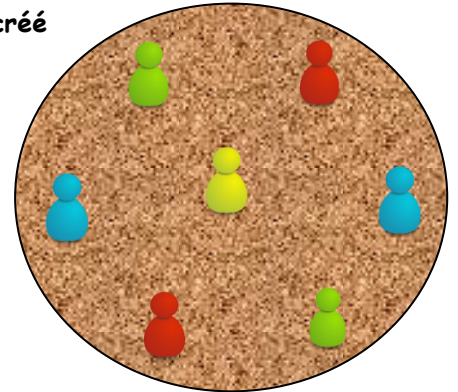
La famille est réunie ! Avant d'aller au festival du jeu, tous les enfants vont faire les courses au supermarché. La famille est composée de cinq filles qui ont toutes un frère.

De combien d'enfants est composée cette famille?

## A la pizzeria

A l'occasion du « festival du jeu le Larmor'pion », le pizaiolo a créé une nouvelle pizza dont la garniture est en forme de pions !

On souhaite la découper en seulement 3 coups de couteau, de manière à ce que chaque morceau contienne un seul pion.



Comment peut-on faire?

## A la pâtisserie



C'est bientôt Pâques, on prépare les ballotins de chocolats.

Mais combien y a-t-il de chocolats dans un ballotin ?


- Il y en a moins de 50.
- Si on les range par 2 ou par 3, il en reste un seul à chaque fois.
- Mais si on les range 5 par 5, il n'en reste pas.

Combien y a-t-il de chocolats dans un ballotin ?

## A la boulangerie



Dans cette vitrine, dessiner seulement deux rectangles, pour isoler chacun des neuf croissants.



## A la Pharmacie


S'il fait grand beau temps pour le festival du jeu « Le Larmor'pion », il faudra mettre de la crème solaire. Dans la pharmacie, trois personnes discutent pour trouver où le pharmacien a rangé ses produits solaires.

Mais une seule dit la vérité :

- 1<sup>ère</sup> personne : « Suivez la direction A »
- 2<sup>ème</sup> personne : « B est la bonne direction »
- 3<sup>ème</sup> personne : « A est la bonne direction »



Quelle direction doit-on suivre ?



## Au salon de coiffure



Je dois prendre rendez-vous chez la coiffeuse, je veux m'y rendre après le festival du jeu « Le Larmor'pion ».

Quelle est la 1<sup>ère</sup> date qui suit le 06/04/2019

et qui s'écrit avec 8 chiffres tous différents?

## Aux délices de Larmor



On veut offrir un produit de la boutique :

Sachant qu'on peut choisir le produit :

- parmi 3 régions différentes, Bretagne, Savoie, Bourgogne,
- que le produit peut être sucré ou salé.
- que le paquet cadeau peut être fait dans du papier transparent ou du papier Kraft.

Combien de cadeaux différents peut-on offrir ?

## Chez l'opticien



Test de vue : votre vue est bonne si vous réussissez à lire ces lettres....

mais il faut surtout compléter cette suite logique par les deux lettres manquantes :

L M M J V - -

## Chez l'opticien



Comment placer ces 10 paires de lunettes pour former exactement 5 rangées de 4 paires de lunettes?



## A la charcuterie



Richard a préparé une commande de 60 chipolatas, certaines aux herbes, d'autres natures.

Les chipos natures sont quatre fois plus nombreuses que celles aux herbes.

Combien y a-t-il de chipos de chaque sorte dans cette commande ?

## A la maison de la presse

Dans un magazine de la maison de la presse, on peut trouver le jeu suivant :

Remplir cette grille de telle façon que l'on trouve les quatre lettres du mot « JEUX » sur chacune des quatre lignes, des quatre colonnes et des deux diagonales.



J			
E			
U			
X			

## Chez la vétérinaire



La salle d'attente de la clinique vétérinaire contient des tabourets (à 3 pieds) et des chaises (à 4 pieds).

Une personne (bipède) est assise et attend avec son chat (quadrupède).

Le nombre total de pieds dans la pièce est 24.

Combien y a-t-il de chaises ?